


● 選擇題 (1~32 每題 3 分，第 33 題 4 分)

- () 01、「仙拚仙，拚死猴齊天」用來形容清帝國時期臺灣械鬥的社會現象。械鬥的原因有很多(甲)因為當時渡臺禁令的影響，羅漢腳眾多，(乙)又因語言、祖籍不同產生隔閡，(丙)當移民為爭奪水源、土地、利益時，就容易發生衝突。(丁)為防禦械鬥，而設計寺廟。配合臺灣歷史的發展來看上述敘述，其中哪一項與史實不符而需要修改？ (A)甲 (B)乙 (C)丙 (D)丁。
- () 02、一八六〇年代以後，臺灣政治經濟重心逐漸由南部轉移至北部，其主要原因為何？
(A)南部米糖生產下降，經濟蕭條，造成人口往北移動
(B)南部多颱風與地層下陷，天災頻傳，迫使人口外移
(C)北部移民來源複雜，經常發生變亂，必須駐兵鎮壓
(D)北部發展茶與樟腦，外銷貿易成長，經濟發展快速
- () 03、這個地方製茶工房林立，茶葉產期，茶行必須雇用許多女工，多則五、六十人，少則二、三十人，甚至有漳、泉婦女來此短期工作，每日工資四、五錢不等。請問：這個地方應是下列何地？ (A)大稻埕 (B)艋舺 (C)安平 (D)打狗
- () 04、某一地方志記載：「此人在富戶的支援下，聚眾二百餘人，進入番地。1798 年在烏石港築成頭城，作為拓墾的基地，其後閩、粵移民陸續加入，逐漸拓墾，終將宜蘭平原全境開拓。」文中的「此人」是何者？ (A)朱一貴 (B)張達京 (C)施琅 (D)吳沙。
- () 05 臺灣在清帝國時期所興築的四大水圳，由北而南依序為何？ (A)曹公圳、瑠公圳、貓霧揀圳、八堡圳 (B)八堡圳、曹公圳、貓霧揀圳、瑠公圳 (C)瑠公圳、貓霧揀圳、八堡圳、曹公圳 (D)貓霧揀圳、曹公圳、八堡圳、瑠公圳。
- () 06、清帝國晚期，臺北逐漸成為臺灣的經濟中心，主要是因為下列何者的緣故？ (A)洋行的成立 (B)茶的外銷 (C)國際貿易大量入超 (D)甲午戰爭的爆發。
- () 07、請參考下側的清代臺灣產業分布圖，並回答下列問題：茶葉、蔗糖、樟腦的產地分別位於圖中哪個區域？ (A)甲、丙、乙 (B)丙、乙、甲 (C)乙、甲、丙 (D)甲、乙、丙




- () 08、清帝國時期，臺北盆地漸漸開墾，因此增開港口，而當時水路可直通大科埃。請問：當時開放港口為下列何者？ (A)淡水 (B)八里坌 (C)萬華 (D)景美。
- () 09、跑水祭是台灣一項地方上祭祀活動，每年在八堡圳取水口舉辦，彰化縣長會率領民眾體驗跑水樂趣，這活動主要就是紀念當年建立八堡圳的有功人士。請問紀念的是下列何人：(A) 曹謹 (B)郭錫瑠 (C) 施世榜 (D)張達京。
- () 10、從下列哪些敘述可看出清帝國時期，臺灣在文教方面已有迅速的發展？(甲)書院林立；(乙)進士、舉人的急速增加；(丙)會黨林立 (A)甲乙 (B)甲丙 (C)甲乙丙 (D)乙丙。
- () 11、清帝國統治前期，大量移民到台灣，也將其原鄉的信仰帶進台灣，其中廣東潮州(客家)的原鄉信仰為下列何者 (A)三山國王 (B)保生大帝 (C)玄天上帝 (D)開漳聖王。
- () 12、「臺灣在戰後再度進入國際貿易市場，海關、領事館等機構正式出現。不僅各國商人可以到通商口岸做買賣，西洋傳教士也能自由進出傳教，馬偕牧師即為著名代表之一。」上述現象發生於臺灣哪一時期？〔97.第一次基測修訂〕 (A)荷蘭統治時期 (B)鄭氏統治時期 (C)清代統治後期 (D)日本統治前期。
- () 13、在以前，舶來品(進口貨)是高級品，是價錢昂貴的東西，難免有冒牌貨，冒牌貨不敢走“正港”，必定是走“偏港”，於是正正當當從合法港口進來的外國貨品就叫做 tsia¹-ka ŋ²·e (正港的)，表示正牌的舶來品，請問下列那一個港口不是正港 (A) 鹿港 (B)打狗 (C)鹿耳門 (D)八里坌
- () 14、清朝統治臺灣前期，商人曾經在臺組織「行郊」這樣的商業組織，這類組織成立的目的為何？ (A) 控制商品價格，維護商人利益 (B)從事社會公益，扶持相關行業成立 (C)拓展貿易範圍，對外搶奪市場 (D)整合地方宗教，使宗教衝突減低。

- ()15、文佐過年期間與爸媽到台北年貨大街(迪化街)採買年貨，途中經過台北市的古蹟霞海城隍廟。該廟廟地十分狹窄，面積約只有 46 坪大，卻是大稻埕一帶地區的重要民間信仰中心，與法主真君廟、慈聖宮媽祖廟合稱「大稻埕三大廟」請問大稻埕是在什麼事件後開始崛起？ (A)牡丹社事件 (B)英法聯軍 (C)清法戰爭 (D)甲午戰爭。
- ()16、面對漢人移墾的衝擊，中部平埔族離開原居地，遷往他處，這是第一波的平埔族遷徙。請問：這一波遷徙的目的地最有可能是哪裡？ (A)彰化平原 (B)台中盆地 (C)宜蘭平原 (D)嘉南平原
- ()17、小明來到了臺南某間醫院就診，此醫院前身是西方傳教士在臺南所建立的臺灣第一間西醫醫館。請問：此醫院應該是下列何者？ (A)新樓醫院 (B)門諾醫院 (C)新光醫院 (D)馬偕醫院。
- ()18、承上題，上述醫院是哪一位傳教士所創辦？ (A)馬偕 (B)甘為霖 (C)馬雅各 (D)利瑪竇。
- ()19、附圖描繪的是清帝國時期平埔族的風情，圖中受教育的皆平埔族的孩童，並穿著漢人服飾。請問：由圖可判斷下列敘述何者正確？



- (A)該場所為官方設立的書院 (B)平埔族逐漸受到漢人文化影響 (C)圖中的場所主要位於東部深山 (D)男童與教師交談皆用平埔族語
- ()20、光緒 16 年(1890 年)，因北路磺腦專賣局的設立，使本地成為茶葉、樟腦、木材的集散地。而光緒 18~23 年間是淡水河上游大嵙崁渡口的黃金時期，當時大嵙崁的商家雲集，多達三、四百家，多集中在現今和平路老街一帶。上文中的「大嵙崁」可能是指今日的哪一地區？ (A)宜蘭羅東 (B)桃園大溪 (C)臺南安平 (D)高雄鳳山。
- ()21、附圖描繪的是清代臺灣原住民協助官員渡溪的情景，協助渡溪推筏為政府指派給原住民的勞役項目之一，除此之外，原住民還要負責開路、運糧等事務。有某社的原住民最後不堪負荷，憤而聯合中部地區的平埔族群各社反抗。請問：上述是為下列哪一件事件？(A)麻豆社之役 (B)郭懷一事件 (C)大肚王反叛事件 (D)大甲西社事件。

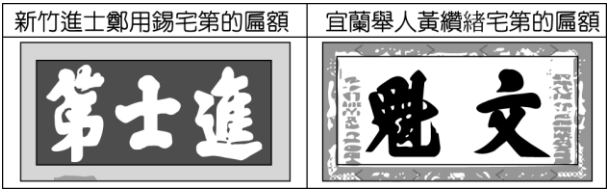


- ()22、清代台灣的開發過程中，出現了很多的地名，一直沿用迄今。像是「公館」是指房舍，或是一種自衛性的建築；而「五股」、「頭份」這種地名，是與下列哪種現象有關？(A)抵禦原住民 (B)維護地方安全 (C)合資開墾 (D)祕密結社。
- ()23、清領時期，漢人不斷的越界開墾，常常與原住民發生衝突，並且擠壓到原住民的生活空間。但是也有例外的情形，漢人會與原住民間互相合作，下列那一事件是漢、原合作？(A)大甲西社事件 (B)貓霧揀圳開發 (C)加禮宛事件 (D)朱一貴事件。
- ()24、晨昀周末時和家人出遊，發現在某個菜市場裡的小廟「水仙宮」，竟然曾是清帝國時期當地糖郊的總部。一旁的神農老街、接官亭等史蹟，都見證了這座城市是臺灣在清帝國初期唯一合法港口所在。請問：阿秀出遊的地點位於下列哪一縣市？ (A)屏東縣 (B)高雄市 (C)臺南市 (D)彰化縣。
- ()25、彰化縣鹿港文開書院名稱的由來，是為了紀念明末來臺的文人，上述歷史人物為下列何人？ (A)施琅 (B)鄭成功 (C)鄭經 (D)沈光文

()26、漢原關係一直是統治臺灣的政權所面臨的難題，下列為各政權對此所採行的措施，請按照時間先後順序排列？

- 甲：大批漢人來臺後，透過買賣、欺騙等手段取得原住民土地，使平埔族群的生存空間大幅縮減。
- 乙：歸順的部落長老、頭目參與地方會議，以協助政令推行。
- 丙：為解決糧食不足而實施軍屯，不斷開墾而使原漢關係緊張。

- (A)乙甲丙 (B)乙丙甲 (C)丙乙甲 (D)甲乙丙
- ()27、台北芝山岩隘門，由漳州人興建的，這個管制人員出入的隘門，其作用為何？ (A)囚禁犯人 (B)為台北城牆 (C)防止偷渡上岸 (D) 保護同鄉住所。
- ()28、上文中三人供奉共同祖先，是為了凝聚同為蔡姓的力量，以宗族組織來分，上述祖先是屬於下列何者？ (A)開臺祖 (B)唐山祖 (C)有應公 (D)王爺。
- ()29、阿霖在整理東西時發現，嘉慶年間祖先蔡大明和結拜兄弟蔡阿春、蔡阿土的往來書信，內容提到蔡大明是來自福建的漳州人，蔡阿春是來自福建的泉州人，蔡阿土是來自廣東的潮州人。他們在媽祖廟祭拜時相遇，因緣際會下結拜為兄弟，並共同供奉閩粵地區有名的蔡大零為共同祖先。請問：他們兄弟三人除了共同的媽祖信仰，還可能有其他什麼信仰？ (A)蔡大明一信仰三山國王 (B)蔡阿春一信仰開漳聖王 (C)蔡阿土一信仰清水祖師 (D) 三人也都祭拜「土地公」。
- ()30、清帝國時期，臺灣進出口貿易繁盛，商業興盛的地方，大都有「郊」的組織。請問：「泉郊」和「廈郊」是依據下列何者來區分？ (A)貿易貨品的種類不同 (B)貿易區域的不同 (C)商品品質的不同 (D)進口稱泉郊，出口稱廈郊。
- ()31、清帝國統治時期，臺灣民變與械鬥迭起，社會動盪不安。當時械鬥頻傳，其主要原因最可能為下列何者？〔100. 北北基修訂〕 (A)來臺移民爭奪土地水源及利益，因而聚眾結黨鬥毆 (B)外國商人壟斷經濟大權，郊商難以競爭而爆發衝突 (C)統治階層濫徵雜稅，官吏因稅收分配不均相互爭鬥 (D)原住民土地遭到洋人侵占，生活窘困被迫武力抗爭。
- ()32、附圖分別是保存在新竹和宜蘭的歷史文物，根據圖片內容判斷，這些文物與下列何者關係最密切？



- (A)清代人才選拔制度的施行 (B)鄭氏政權對於儒學的推廣 (C)臺灣總督府所實施的教育制度 (D)荷蘭聯合東印度公司的文教政策
- ()33、小月翻看古地圖（如附圖）時，發現地圖上有兩種不一樣的界線，姐姐跟她解釋，兩種線代表的意義一樣，但實線是後來界線改變後新畫的。請問：兩種線界線的改變，代表下列何種情況發生？(A) 平埔族獵場逐漸擴大 (B) 茶葉種植從平地向內山地區移動 (C) 番界逐漸向內山地區移動 (D)高山原住民生存空間變大

